



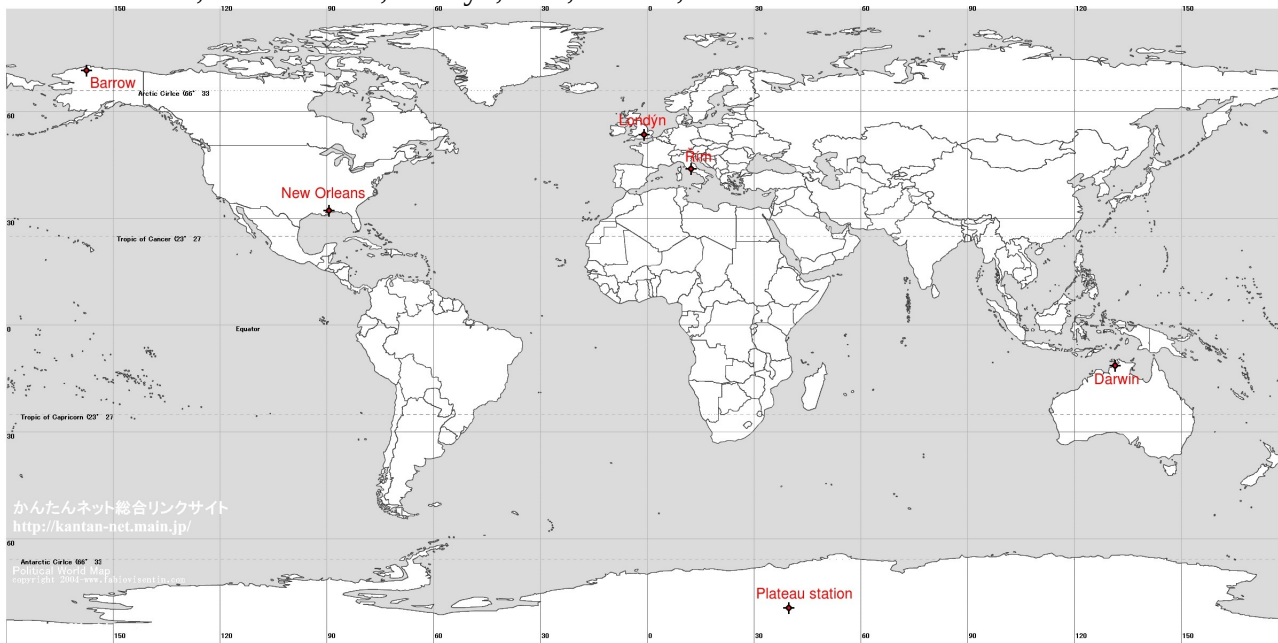
Jméno:

Třída:

Datum:

Köppenova klasifikace podnebí

1. S pomocí školního atlasu označ na mapě světa:
Darwin, New Orleans, Londýn, Řím, Barrow, Plateau station



2. Doplň do tabulky zemi, kód podle Köppenovy klasifikace a slovní popis klimatu:

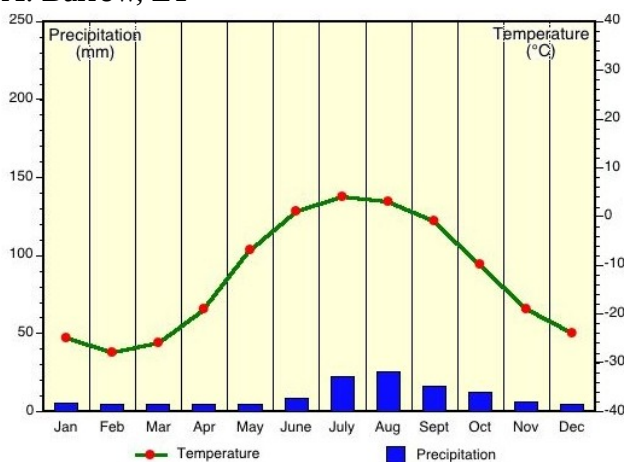
Město	Země	Kód	Popis klimatu
Darwin	Austrálie	Aw	klima tropických savan
New Orleans	USA	Cf	mírně teplé klima s rovnoměrným rozložením srážek během roku
Londýn	VB	Cf	mírně teplé klima s rovnoměrným rozložením srážek během roku
Řím	Itálie	Cs	mírně teplé klima se suchým létem
Barrow	Aljaška	ET	klima tundry
Plateau station	Antarktida	EF	klima stálého mrazu

3. Jaké klima podle Köppenovy klasifikace je v České republice?
Df – mírně studené klima s rovnoměrným rozložením srážek během roku
b – mírné léto

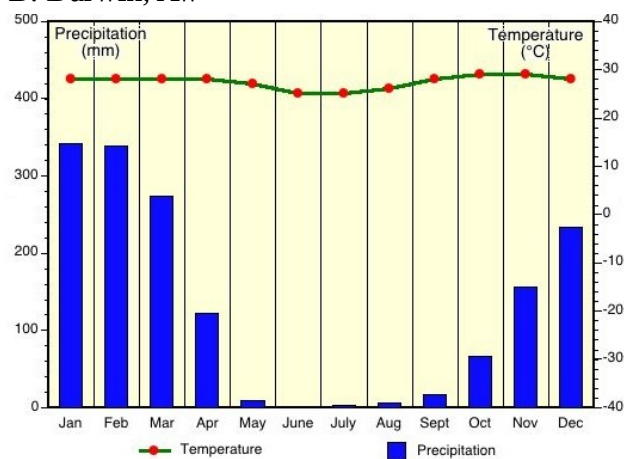


4. Přiřaď k daným klimadiagramům následující lokality:
Darwin, New Orleans, Londýn, Řím, Barrow, Plateau station

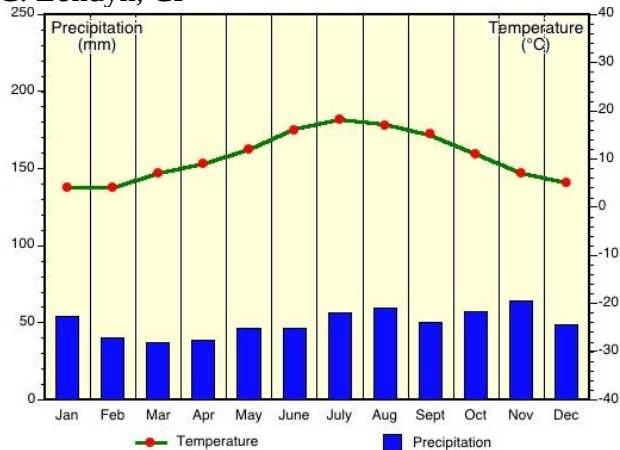
A: Barrow, ET



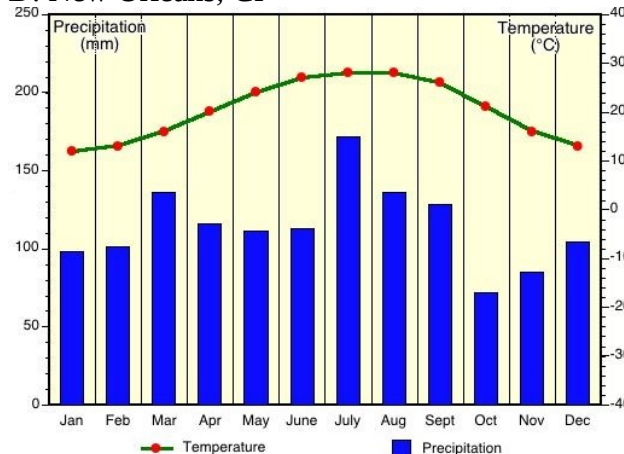
B: Darwin, Aw



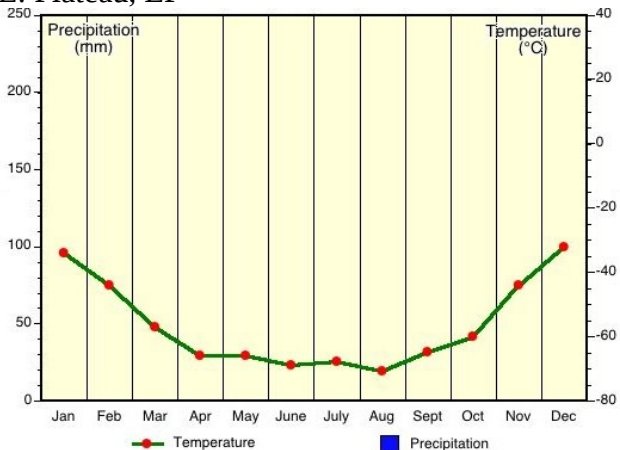
C: Londýn, Cf



D: New Orleans, Cf



E: Plateau, EF



F: Řím, Cs

